



## NOWY WIELKI EGZAMIN

### II Rzeczpospolita – formowanie państwa

#### Instrukcja dla ucznia

1. Sprawdź, czy na kolejno ponumerowanych stronach jest wydrukowanych 20 zadań.
2. Ewentualny brak stron lub inne usterki zgłoś nauczycielowi.
3. W karcie odpowiedzi wpisz swoje imię i nazwisko, wersję testu (A lub B) oraz swój numer w dzienniku. Podaj też klasę.
4. Czytaj uważnie wszystkie teksty i polecenia.
5. Rozwiązania zaznaczaj długopisem lub piórem w karcie odpowiedzi. Staraj się nie popełniać błędów, ale jeśli się pomylisz, błędne zaznaczenie otocz kółkiem i zaznacz inną odpowiedź.
6. Na wykonanie wszystkich zadań masz 40 minut.

Powodzenia!

#### Tekst i mapa do zadań od 1. do 3.

27 grudnia 1918 r. wybuchło w Wielkopolsce powstanie. [...] Wielkopolanom ułatwiło walkę komunistyczne powstanie w Berlinie [...]. Po jego stłumieniu [...] ruszyła niemiecka kontr ofensywa. Mężnie stawiała im czoła [...] armia wielkopolska [...]. Przewaga niemiecka była jednak tak wielka, że dłuższy opór nie wydawał się możliwy. Osłonił powstanie marszałek Foch. Odnowiony 16 lutego 1919 r. w Trewirze rozejm Ententy z Niemcami rozciągnięto również na front wielkopolski. Wymusiła tę decyzję Francja [...]. Francji zależało na silnej Polsce, widziała w niej bowiem sojusznika przeciwko Niemcom. [...] Nie podobało się to Wielkiej Brytanii [...]. W tej sytuacji rola arbitra przypadła prezydentowi Wilsonowi, który doprowadził do rozwiązania kompromisowego [...]. W podpisanym 28 czerwca 1919 r. w Wersalu traktacie pokojowym z Niemcami przyznano Polsce Wielkopolskę i Pomorze Gdańskie [...]. Gdańsk z otaczającym go okręgiem otrzymał status wolnego miasta [...]. Wzorem wcześniejszych propozycji dotyczących Powiśla, Warmii i Mazur postanowiono przeprowadzić plebiscyt na Górnym Śląsku, mający przesądzić o przynależności państwowej tych terenów.

*Polska na przestrzeni wieków*, red. Janusz Tazbir, Wydawnictwo Naukowe PWN, Warszawa 1995, s. 540.

**PRZENIEŚ ROZWIĄZANIA NA KARTĘ ODPOWIEDZI!**



### Zadanie 1. (0-3)

Uzupełnij poniższy tekst. Przyporządkuj do każdego zdania właściwe uzupełnienie spośród oznaczonych literami A-C.

Opisane w tekście wydarzenia, do których doszło przed podpisaniem traktatu pokojowego w Wersalu, rozgrywały się na obszarze oznaczonym na mapie numerem 1.1. \_\_\_\_\_. Z mapy wynika, że obszary plebiscytowe 1.2. \_\_\_\_\_. W traktacie wersalskim nie zostały podjęte decyzje dotyczące obszaru oznaczonego na mapie numerem 1.3. \_\_\_\_\_.

1.1.

A. 1                      B. 3                      C. 4

1.2.

- A. w całości znalazły się w granicach państwa polskiego
- B. częściowo znalazły się w granicach państwa polskiego
- C. w ogóle nie znalazły się w granicach państwa polskiego

1.3.

A. 2                      B. 4                      C. 5

### Zadanie 2. (0-1)

Dokończ zdanie. Wybierz właściwą odpowiedź spośród podanych.

Z tekstu wynika, że największy wpływ na ostateczną decyzję dotyczącą granic państwa polskiego miał przywódca

- A. Francji.
- B. Niemiec.
- C. Wielkiej Brytanii.
- D. USA.

PRZENIEŚ ROZWIĄZANIA NA KARTĘ ODPOWIEDZI!

**Zadanie 3. (0–1)**

Oceń, czy poniższe zdania dotyczące tekstu są prawdziwe. Wybierz **P**, jeśli zdanie jest prawdziwe, albo **F** – jeśli zdanie jest fałszywe.

Przyczyną wydarzeń z grudnia 1918 r. była niechęć mieszkańców Wielkopolski do komunizmu.	<b>P</b>	<b>F</b>
O ostatecznym sukcesie powstania wielkopolskiego zdecydował sukces militarny armii wielkopolskiej.	<b>P</b>	<b>F</b>

**Zadanie 4. (0–1)**

Dokończ zdanie. Wybierz właściwą odpowiedź spośród podanych.

W dniu 11 listopada 1918 r., który został uznany za symboliczny moment odrodzenia Polski, doszło do

- A. powierzenia komendy nad wojskiem przez Radę Regencyjną Józefowi Piłsudskiemu.
- B. wydania *Dekretu o najwyższej władzy reprezentacyjnej Republiki Polskiej*.
- C. powstania pierwszego polskiego rządu.
- D. uchwalenia tzw. Małej konstytucji.

**Ilustracja do zadania 5.**

Muzeum Niepodległości

Wojciech Kossak, *Orleńskie Lwowskie*

**Zadanie 5. (0–1)**

Dokończ zdanie. Wybierz właściwą odpowiedź spośród podanych.

Ilustracja obrazuje wydarzenie związane z procesem kształtowania się granicy

- A. południowej.
- B. wschodniej.
- C. zachodniej.
- D. północnej.

## Ilustracja do zadań 6. i 7.



Muzeum Wojska Polskiego / East News

Jerzy Kossak, *Cud na Wiśle***Zadanie 6. (0–1)**

Oceń, czy poniższe zdania dotyczące ilustracji są prawdziwe. Wybierz **P**, jeśli zdanie jest prawdziwe, albo **F** – jeśli zdanie jest fałszywe.

Ilustracja odnosi się do wydarzenia związanego z wojną polsko-bolszewicką.	<b>P</b>	<b>F</b>
Do wydarzenia ukazanego na ilustracji doszło przed podpisaniem traktatu wersalskiego.	<b>P</b>	<b>F</b>

**Zadanie 7. (0–1)**

Dokończ zdanie. Wybierz właściwą odpowiedź spośród podanych.

Zawarta na obrazie symbolika miała na celu

- A. ukazanie bitwy jako walki dobra ze złem.
- B. zaakcentowanie znaczenia sukcesu wojsk polskich.
- C. przedstawienie przebiegu bitwy jako szczęśliwego dla Polaków zbiegu okoliczności.
- D. ośmieszenie strategicznego planu ataku opracowanego przez polskich dowódców.

**Tabela do zadania 8.**

Data powstania	Wynik
16/17 VIII – 24 VIII 1919 r.	stłumienie powstania przez siły niemieckie
19/20 VIII – 25 VIII 1920 r.	powstanie mieszanej polsko-niemieckiej policji (Policji Plebiscytowej)
2/3 V – 5 VII 1921 r.	zmiana decyzji dotyczącej podziału obszaru plebiscytowego między Polskę i Niemcy

**Zadanie 8. (0–3)**

**Uzupełnij poniższy tekst. Przyporządkuj do każdego zdania właściwe uzupełnienie spośród oznaczonych literami A–C.**

Informacje w tabeli odnoszą się do walk na terenie **8.1** \_\_\_\_\_. Do plebiscytu, który miał zdecydować o przynależności tego obszaru do Polski lub Niemiec, doszło **8.2**. \_\_\_\_\_. W jego wyniku **8.3**. \_\_\_\_\_.

**8.1.**

- A. Górnego Śląska
- B. Warmii i Mazur
- C. Galicji Zachodniej

**8.2.**

- A. przed wybuchem pierwszego powstania
- B. między pierwszym a drugim powstaniem
- C. między drugim a trzecim powstaniem

**8.3.**

- A. większość obszarów weszła w skład państwa polskiego
- B. większość obszarów weszła w skład państwa niemieckiego
- C. obszary te stały się wolnym państwem pod kontrolą Ligi Narodów

**Tekst do zadania 9.**

Na polecenie Józefa Piłsudskiego nastąpił „bunt” Dywizji [...] dowodzonej przez gen. Lucjana Żeligowskiego, a złożonej w znacznej części z żołnierzy rekrutujących się ze spornego terytorium. Wypowiedziała ona posłuszeństwo dowództwu polskiemu [...]. [...] na opanowanych terenach utworzono 12 października nowe państwo.

*Czesław Brzoza, Wielka historia Polski. Polska w czasach niepodległych i drugiej wojny światowej (1918–1945), Świat Książki, Warszawa 2003, t. V, s. 41–42.*

**Zadanie 9. (0–1)**

**Dokończ zdanie. Wybierz właściwą odpowiedź spośród podanych.**

Do opisanego w tekście wydarzenia doszło na terenie

- A. Lwowa.
- B. Wolnego Miasta Gdańska.
- C. Warmii i Mazur.
- D. Wileńszczyzny.

**Tekst do zadania 10.**

Nierealne okazały się [...] plany federacyjne. Rosja została odepchnięta, ale nie rozbita, bez czego nie mogło być mowy o federacji, zwłaszcza że bez entuzjazmu odniosły się do niej narody wschodnioeuropejskie. Litwini wręcz nie ukrywali wrogości, a i Ukraińcy niechętnie potraktowali ideę związania z Polską. [...] W rezultacie {A} musiał zadowolić się zrealizowaniem endeckiej koncepcji inkorporacyjnej.

*Polska na przestrzeni wieków, red. Janusz Tazbir, Wydawnictwo Naukowe PWN, Warszawa 1995, s. 546.*

**PRZENIEŚ ROZWIĄZANIA NA KARTĘ ODPOWIEDZI!**

**Zadanie 10. (0–1)**

**Dokończ zdanie. Wybierz odpowiedź A albo B i jej uzasadnienie spośród 1–3.**

Postać ukryta w tekście pod literą {A} to

<b>A.</b>	Józef Piłsudski,	na co wskazuje fakt, że stworzona przez niego koncepcja granic	<b>1.</b>	została zrealizowana.
	<b>B.</b>		Roman Dmowski,	<b>2.</b>
<b>3.</b>				została zrealizowana tylko częściowo.

**Zadanie 11. (0–1)**

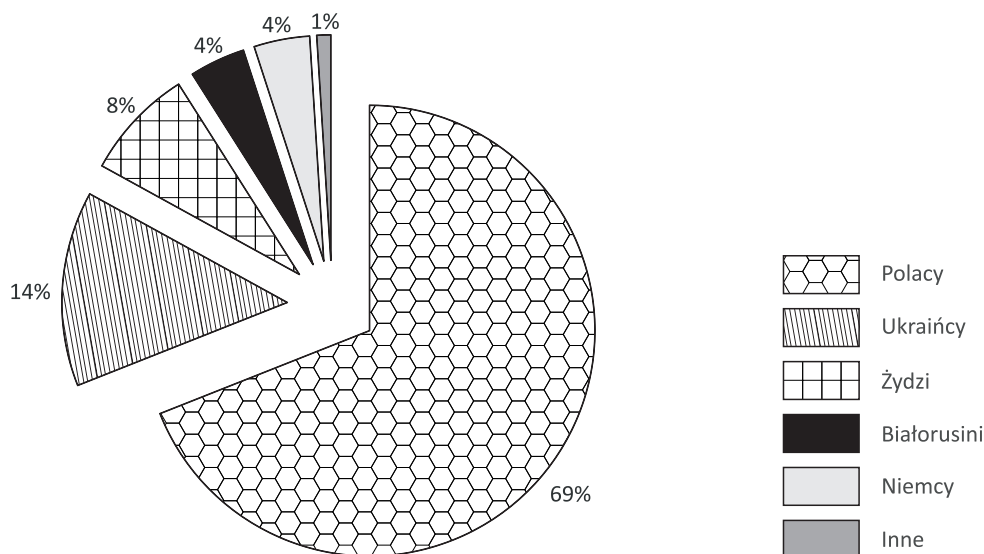
**Dokończ zdanie. Wybierz właściwą odpowiedź spośród podanych.**

Sformułowanie Stanisława Żeromskiego o Polsce jako kraju złożonym z „trzech nierównych połówek” odnosi się do

- A.** różnych sposobów odzyskiwania przez Polaków ziem trzech zaborów.
- B.** różnic w powierzchni Polski okresu przedrozbiorowego i porozbiorowego.
- C.** konfliktów między największymi narodowościami mieszkającymi w II Rzeczpospolitej.
- D.** problemów związanych z integracją ziem polskich po okresie rozbiorów.

**Wykres do zadania 12.**

Podział narodowościowy społeczeństwa polskiego w okresie międzywojennym (dane z 1921 roku)



Czesław Brzoza, *Wielka historia Polski. Polska w czasach niepodległych i drugiej wojny światowej (1918–1945)*, Świat Książki, Warszawa 2003, t. V, s. 56.

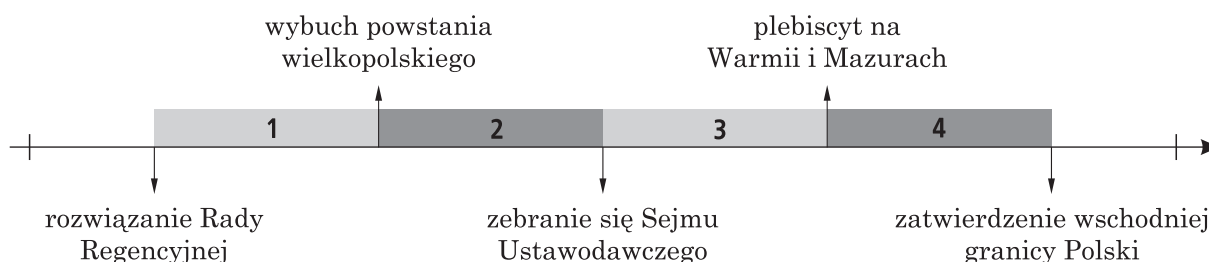
**PRZENIEŚ ROZWIĄZANIA NA KARTĘ ODPOWIEDZI!**

**Zadanie 12. (0–1)**

Oceń, czy poniższe zdania dotyczące wykresu są prawdziwe. Wybierz P, jeśli zdanie jest prawdziwe, albo F – jeśli zdanie jest fałszywe.

Na obszarze II Rzeczypospolitej mieszkały co najmniej dwie mniejszości narodowe, które w okresie międzywojennym nie utworzyły własnego państwa.	P	F
W 1921 r. mniejszość narodowa należąca do jednego z byłych państw zaborczych liczyła 4%.	P	F

**Oś czasu do zadania 13.**



**Zadanie 13. (0–1)**

Dokończ zdanie. Wybierz właściwą odpowiedź spośród podanych.

Tzw. Mała konstytucja została uchwalona w okresie oznaczonym na osi czasu numerem

- A. 1.                      B. 2.                      C. 3.                      D. 4.

**Zadanie 14. (0–2)**

Opisom w tabeli przyporządkuj odpowiednią postać spośród oznaczonych literami A–C. Wybierz właściwą literę.

14.1.	(1865–1922), pierwszy prezydent Rzeczypospolitej Polskiej, inżynier. W 1908–1920 profesor politechniki w Zurychu [...]. Po powrocie do kraju w 1920–1921 minister robót publicznych, w 1922 – spraw zagranicznych. 9 XII wybrany na prezydenta przez Zgromadzenie Narodowe [...]; zastrzelony w Warszawie 16 grudnia przez prawicowego fanatyka.	A	B	C
14.2.	(1860–1941), pianista, [...] kompozytor, polityk, działacz społeczny i patriotyczny. [...] W czasie I wojny światowej działał aktywnie na rzecz niepodległości Polski [...]. W 1919–1920 prezydent Rady Ministrów [...] i minister spraw zagranicznych; podpisał w imieniu Polski wersalski traktat pokojowy.	A	B	C

Halina Adameczyk-Szczecińska, Alicja Mańkowska, Krystyna Zalewska, *Słownik szkolny. Postacie historyczne*, Wydawnictwa Szkolne i Pedagogiczne, Warszawa 1997, s. 224 i 237.

A – Wojciech Korfanty                      B – Gabriel Narutowicz                      C – Ignacy Jan Paderewski

PRZENIEŚ ROZWIĄZANIA NA KARTĘ ODPOWIEDZI!

## Tabela do zadania 15.

Kluby i koła poselskie Sejmu Ustawodawczego  
(stan w XI 1922 r.)

Partia	Liczba członków
Związek Ludowo-Narodowy	91
Polskie Stronnictwo Ludowe „Piast”	81
Narodowe Zjednoczenie Ludowe	45
Związek Polskich Posłów Socjalistycznych	33
Narodowy Chrześcijański Klub Robotniczy	25
Polskie Stronnictwo Ludowe „Wyzwolenie”	24
Narodowo-Chrześcijańskie Stronnictwo Ludowe	23
Narodowa Partia Robotnicza	21
Klub Pracy Konstytucyjnej	15
Zjednoczenie Mieszczańskie	11
Wolny Związek Posłów Narodowości Żydowskiej	10
Polskie Stronnictwo Ludowe „Lewica”	8
Polskie Stronnictwo Katolicko-Ludowe	7
Niemieckie Stronnictwo Ludowe	7
Narodowa Partia Pracy	6
Klub Rad Ludowych	5
Klub Lewicy Ludowej	4
Stronnictwo Posłów Komunistycznych	2
Stronnictwo Radykalno-Chłopskie	1
Bezpartyjni	12

*Historia Polski w liczbach*, Główny Urząd Statystyczny,  
Warszawa 2003, t. 1, s. 271.



**Zadanie 15. (0–1)**

Oceń, czy poniższe zdania dotyczące tabeli są prawdziwe. Wybierz **P**, jeśli zdanie jest prawdziwe, albo **F** – jeśli zdanie jest fałszywe.

Jednym z głównych problemów politycznych Polski w okresie formowania się ustroju politycznego państwa był brak możliwości stworzenia stabilnego rządu.	<b>P</b>	<b>F</b>
Z danych zawartych w tabeli wynika, że ruch ludowy w Polsce był we wspomnianym okresie poważnie rozbity.	<b>P</b>	<b>F</b>

**Tekst do zadań od 16. do 18.**

Konstytucja marcowa  
(fragm.)

## Artykuł 2.

Władza zwierzchnia w Rzeczypospolitej Polskiej należy do Narodu. Organami Narodu w zakresie ustawodawstwa są Sejm i Senat, w zakresie władzy wykonawczej – Prezydent Rzeczypospolitej łącznie z odpowiedzialnymi ministrami, w zakresie wymiaru sprawiedliwości – niezawisłe Sądy. [...]

## Artykuł 39.

Prezydenta Rzeczypospolitej wybierają na lat siedem bezwzględną większością głosów Sejm i Senat, połączone w Zgromadzenie Narodowe. [...]

## Artykuł 43.

Prezydent Rzeczypospolitej sprawuje władzę wykonawczą przez odpowiedzialnych przed Sejmem ministrów i podległych im urzędników.

## Artykuł 44.

[...] Każdy akt rządowy Prezydenta Rzeczypospolitej wymaga dla swej ważności podpisu Prezesa Rady Ministrów i właściwego ministra, którzy przez podpisanie aktu biorą zań odpowiedzialność.

## Artykuł 45.

Prezydent Rzeczypospolitej mianuje i odwołuje Prezesa Rady Ministrów, na jego wniosek mianuje i odwołuje ministrów [...].

## Artykuł 51.

Za czynności urzędowe Prezydent Rzeczypospolitej nie jest odpowiedzialny ani parlamentarnie, ani cywilnie.

Melania Sobańska-Bondaruk, Stanisław Bogusław Lenard, *Wiek XX w źródłach*,  
Wydawnictwo Naukowe PWN, Warszawa 1998, s. 145–146.

**Zadanie 16. (0–1)****Dokończ zdanie. Wybierz właściwą odpowiedź spośród podanych.**

Zgodnie z zacytowanym dokumentem w polskim ustroju politycznym w praktyce

- A. przewagę miała władza sądownicza.
- B. przewagę miała władza wykonawcza.
- C. przewagę miała władza ustawodawcza.
- D. istniała równowaga między władzami wykonawczą, ustawodawczą i sądowniczą.


**Zadanie 17. (0–1)****Dokończ zdanie. Wybierz właściwą odpowiedź spośród podanych.**

Kwestie odpowiedzialności władzy wykonawczej za podejmowane decyzje polityczne regulowały artykuły

- A. 39. i 43.
- B. 39. i 44.
- C. 44. i 51.
- D. 45. i 51.

**Zadanie 18. (0–1)****Oceń, czy poniższe zdania dotyczące tekstu są prawdziwe. Wybierz P, jeśli zdanie jest prawdziwe, albo F – jeśli zdanie jest fałszywe.**

W myśl Konstytucji marcowej wszystkie instytucje władzy wykonawczej były powoływane przez władzę ustawodawczą.	<b>P</b>	<b>F</b>
Prezydent Rzeczypospolitej był wybierany w wyborach powszechnych.	<b>P</b>	<b>F</b>

**Ilustracja do zadania 19.**

Domena publiczna

Stanisław Wojciechowski

**PRZENIEŚ ROZWIĄZANIA NA KARTĘ ODPOWIEDZI!**

**Zadanie 19. (0-1)**

**Dokończ zdanie. Wybierz właściwą odpowiedź spośród podanych.**

Na ilustracji ukazano

- A. premiera II Rzeczypospolitej.
- B. prezydenta II Rzeczypospolitej.
- C. przywódcę powstańców śląskich.
- D. członka polskiej reprezentacji politycznej na konferencji w Wersalu.

**Zadanie 20. (0-2)**

**Spośród podanych wydarzeń oznaczonych literami A-D wybierz wydarzenie chronologicznie pierwsze i wydarzenie chronologicznie ostatnie. Zaznacz litery, którymi oznaczono wybrane wydarzenia.**

<b>20.1.</b>	Wydarzenie chronologicznie pierwsze	<b>A</b>	<b>B</b>	<b>C</b>	<b>D</b>
<b>20.2.</b>	Wydarzenie chronologicznie ostatnie	<b>A</b>	<b>B</b>	<b>C</b>	<b>D</b>

- A – Bitwa Warszawska
- B – uchwalenie tzw. Małej konstytucji
- C – uchwalenie Konstytucji marcowej
- D – wybór pierwszego prezydenta Rzeczypospolitej



## NOWY WIELKI EGZAMIN

### II Rzeczpospolita – formowanie państwa

#### Instrukcja dla ucznia

1. Sprawdź, czy na kolejno ponumerowanych stronach jest wydrukowanych 20 zadań.
2. Ewentualny brak stron lub inne usterki zgłoś nauczycielowi.
3. W karcie odpowiedzi wpisz swoje imię i nazwisko, wersję testu (A lub B) oraz swój numer w dzienniku. Podaj też klasę.
4. Czytaj uważnie wszystkie teksty i polecenia.
5. Rozwiązania zaznaczaj długopisem lub piórem w karcie odpowiedzi. Staraj się nie popełniać błędów, ale jeśli się pomylisz, błędne zaznaczenie otocz kółkiem i zaznacz inną odpowiedź.
6. Na wykonanie wszystkich zadań masz 40 minut.

Powodzenia!

#### Tekst i mapa do zadań od 1. do 3.

27 grudnia 1918 r. wybuchło w Wielkopolsce powstanie. [...] Wielkopolanom ułatwiło walkę komunistyczne powstanie w Berlinie [...]. Po jego stłumieniu [...] ruszyła niemiecka kontrofensywa. Mężnie stawiała im czoła [...] armia wielkopolska [...]. Przewaga niemiecka była jednak tak wielka, że dłuższy opór nie wydawał się możliwy. Osłonił powstanie marszałek Foch. Odnowiony 16 lutego 1919 r. w Trewirze rozejm Ententy z Niemcami rozciągnięto również na front wielkopolski. Wymusiła tę decyzję Francja [...]. Francji zależało na silnej Polsce, widziała w niej bowiem sojusznika przeciwko Niemcom. [...] Nie podobało się to Wielkiej Brytanii [...]. W tej sytuacji rola arbitra przypadła prezydentowi Wilsonowi, który doprowadził do rozwiązania kompromisowego [...]. W podpisanym 28 czerwca 1919 r. w Wersalu traktacie pokojowym z Niemcami przyznano Polsce Wielkopolskę i Pomorze Gdańskie [...]. Gdańsk z otaczającym go okręgiem otrzymał status wolnego miasta [...]. Wzorem wcześniejszych propozycji dotyczących Powiśla, Warmii i Mazur postanowiono przeprowadzić plebiscyt na Górnym Śląsku, mający przesądzić o przynależności państwowej tych terenów.

*Polska na przestrzeni wieków*, red. Janusz Tazbir, Wydawnictwo Naukowe PWN,  
Warszawa 1995, s. 540.

**PRZENIEŚ ROZWIĄZANIA NA KARTĘ ODPOWIEDZI!**



### Zadanie 1. (0-3)

Uzupełnij poniższy tekst. Przyporządkuj do każdego zdania właściwe uzupełnienie spośród oznaczonych literami A-C.

Opisane w tekście wydarzenia, do których doszło przed podpisaniem traktatu pokojowego w Wersalu, rozgrywały się na obszarze oznaczonym na mapie numerem 1.1. \_\_\_\_\_. Z mapy wynika, że obszary plebiscytowe 1.2. \_\_\_\_\_. W traktacie wersalskim nie zostały podjęte decyzje dotyczące obszaru oznaczonego na mapie numerem 1.3. \_\_\_\_\_.

1.1.

A. 1                      B. 3                      C. 4

1.2.

- A. w ogóle nie znalazły się w granicach państwa polskiego
- B. w całości znalazły się w granicach państwa polskiego
- C. częściowo znalazły się w granicach państwa polskiego

1.3.

A. 2                      B. 4                      C. 5

### Zadanie 2. (0-1)

Dokończ zdanie. Wybierz właściwą odpowiedź spośród podanych.

Z tekstu wynika, że największy wpływ na ostateczną decyzję dotyczącą granic państwa polskiego miał przywódca

- A. Wielkiej Brytanii.
- B. USA.
- C. Francji.
- D. Niemiec.

PRZENIEŚ ROZWIĄZANIA NA KARTĘ ODPOWIEDZI!

**Zadanie 3. (0–1)**

Oceń, czy poniższe zdania dotyczące tekstu są prawdziwe. Wybierz P, jeśli zdanie jest prawdziwe, albo F – jeśli zdanie jest fałszywe.

Przyczyną wydarzeń z grudnia 1918 r. była niechęć mieszkańców Wielkopolski do komunizmu.	P	F
O ostatecznym sukcesie powstania wielkopolskiego zdecydował sukces militarny armii wielkopolskiej.	P	F

**Zadanie 4. (0–1)**

Dokończ zdanie. Wybierz właściwą odpowiedź spośród podanych.

W dniu 11 listopada 1918 r., który został uznany za symboliczny moment odrodzenia Polski, doszło do

- A. uchwalenia tzw. Małej konstytucji.
- B. powstania pierwszego polskiego rządu.
- C. wydania *Dekretu o najwyższej władzy reprezentacyjnej Republiki Polskiej*.
- D. powierzenia komendy nad wojskiem przez Radę Regencyjną Józefowi Piłsudskiemu.

**Ilustracja do zadania 5.**

Muzeum Niepodległości

Wojciech Kossak, *Orleńskie Lwów*

**Zadanie 5. (0–1)**

Dokończ zdanie. Wybierz właściwą odpowiedź spośród podanych.

Ilustracja obrazuje wydarzenie związane z procesem kształtowania się granicy

- A. północnej.
- B. zachodniej.
- C. wschodniej.
- D. południowej.

## Ilustracja do zadań 6. i 7.



Muzeum Wojska Polskiego / East News

Jerzy Kossak, *Cud na Wiśle***Zadanie 6. (0–1)**

Oceń, czy poniższe zdania dotyczące ilustracji są prawdziwe. Wybierz **P**, jeśli zdanie jest prawdziwe, albo **F** – jeśli zdanie jest fałszywe.

Do wydarzenia ukazanego na ilustracji doszło przed podpisaniem traktatu wersalskiego.	<b>P</b>	<b>F</b>
Ilustracja odnosi się do wydarzenia związanego z wojną polsko-bolszewicką.	<b>P</b>	<b>F</b>

**Zadanie 7. (0–1)**

Dokończ zdanie. Wybierz właściwą odpowiedź spośród podanych.

Zawarta na obrazie symbolika miała na celu

- A. przedstawienie przebiegu bitwy jako szczęśliwego dla Polaków zbiegu okoliczności.
- B. ośmieszenie strategicznego planu ataku opracowanego przez polskich dowódców.
- C. ukazanie bitwy jako walki dobra ze złem.
- D. zaakcentowanie znaczenia sukcesu wojsk polskich.

**Tabela do zadania 8.**

Data powstania	Wynik
16/17 VIII – 24 VIII 1919 r.	stłumienie powstania przez siły niemieckie
19/20 VIII – 25 VIII 1920 r.	powstanie mieszanej polsko-niemieckiej policji (Policji Plebiscytowej)
2/3 V – 5 VII 1921 r.	zmiana decyzji dotyczącej podziału obszaru plebiscytowego między Polskę i Niemcy

**Zadanie 8. (0–3)**

**Uzupełnij poniższy tekst. Przyporządkuj do każdego zdania właściwe uzupełnienie spośród oznaczonych literami A–C.**

Informacje w tabeli odnoszą się do walk na terenie **8.1** \_\_\_\_\_. Do plebiscytu, który miał zdecydować o przynależności tego obszaru do Polski lub Niemiec, doszło **8.2**. \_\_\_\_\_. W jego wyniku **8.3**. \_\_\_\_\_.

**8.1.**

- A. Galicji Zachodniej
- B. Górnego Śląska
- C. Warmii i Mazur

**8.2.**

- A. przed wybuchem pierwszego powstania
- B. między pierwszym a drugim powstaniem
- C. między drugim a trzecim powstaniem

**8.3.**

- A. obszary te stały się wolnym państwem pod kontrolą Ligi Narodów
- B. większość obszarów weszła w skład państwa niemieckiego
- C. większość obszarów weszła w skład państwa polskiego

**Tekst do zadania 9.**

Na polecenie Józefa Piłsudskiego nastąpił „bunt” Dywizji [...] dowodzonej przez gen. Lucjana Żeligowskiego, a złożonej w znacznej części z żołnierzy rekrutujących się ze spornego terytorium. Wypowiedziała ona posłuszeństwo dowództwu polskiemu [...]. [...] na opanowanych terenach utworzono 12 października nowe państwo.

*Czesław Brzoza, Wielka historia Polski. Polska w czasach niepodległych i drugiej wojny światowej (1918–1945), Świat Książki, Warszawa 2003, t. V, s. 41–42.*

**Zadanie 9. (0–1)**

**Dokończ zdanie. Wybierz właściwą odpowiedź spośród podanych.**

Do opisanego w tekście wydarzenia doszło na terenie

- A. Wileńszczyzny.
- B. Wolnego Miasta Gdańska.
- C. Warmii i Mazur.
- D. Lwowa.

**Tekst do zadania 10.**

Nierealne okazały się [...] plany federacyjne. Rosja została odepchnięta, ale nie rozbita, bez czego nie mogło być mowy o federacji, zwłaszcza że bez entuzjazmu odniosły się do niej narody wschodnioeuropejskie. Litwini wręcz nie ukrywali wrogości, a i Ukraińcy niechętnie potraktowali ideę związania z Polską. [...] W rezultacie {A} musiał zadowolić się zrealizowaniem endeckiej koncepcji inkorporacyjnej.

*Polska na przestrzeni wieków, red. Janusz Tazbir, Wydawnictwo Naukowe PWN, Warszawa 1995, s. 546.*

**PRZENIEŚ ROZWIĄZANIA NA KARTĘ ODPOWIEDZI!**



**Zadanie 10. (0–1)**

**Dokończ zdanie. Wybierz odpowiedź A albo B i jej uzasadnienie spośród 1–3.**

Postać ukryta w tekście pod literą {A} to

A.	Roman Dmowski,	na co wskazuje fakt, że stworzona przez niego koncepcja granic	1.	nie została zrealizowana.
	B.		Józef Piłsudski,	2.
				3.

**Zadanie 11. (0–1)**

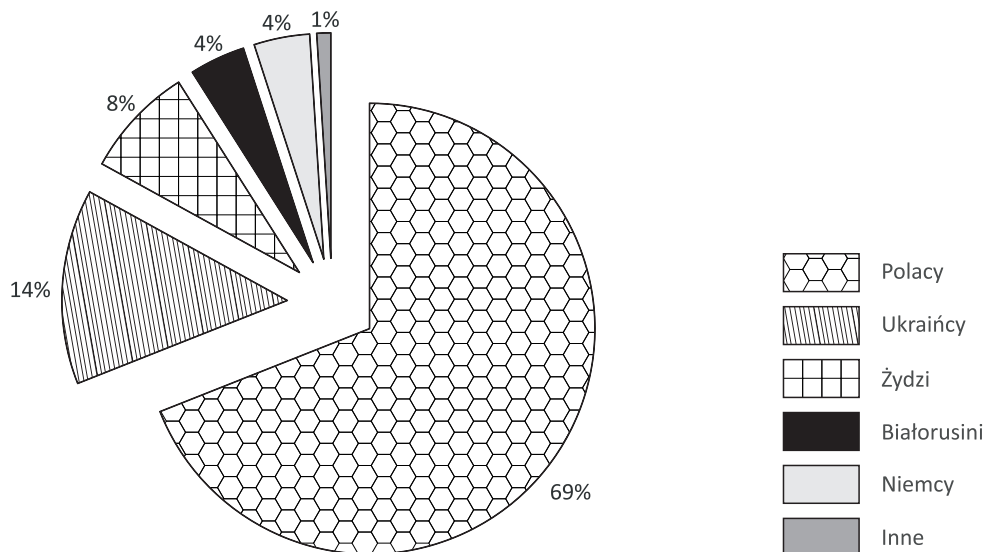
**Dokończ zdanie. Wybierz właściwą odpowiedź spośród podanych.**

Sformułowanie Stanisława Żeromskiego o Polsce jako kraju złożonym z „trzech nierównych połówek” odnosi się do

- A. problemów związanych z integracją ziem polskich po okresie rozbiorów.
- B. konfliktów między największymi narodowościami mieszkającymi w II Rzeczypospolitej.
- C. różnic w powierzchni Polski okresu przedrozbiorowego i porozbiorowego.
- D. różnych sposobów odzyskiwania przez Polaków ziem trzech zaborów.

**Wykres do zadania 12.**

Podział narodowościowy społeczeństwa polskiego w okresie międzywojennym (dane z 1921 roku)



Czesław Brzoza, *Wielka historia Polski. Polska w czasach niepodległych i drugiej wojny światowej (1918–1945)*, Świat Książki, Warszawa 2003, t. V, s. 56.

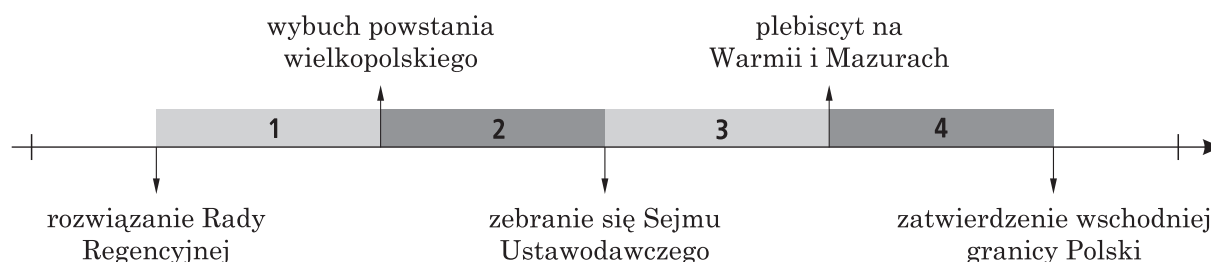
**PRZENIEŚ ROZWIĄZANIA NA KARTĘ ODPOWIEDZI!**

**Zadanie 12. (0–1)**

Oceń, czy poniższe zdania dotyczące wykresu są prawdziwe. Wybierz P, jeśli zdanie jest prawdziwe, albo F – jeśli zdanie jest fałszywe.

Na obszarze II Rzeczypospolitej mieszkały co najmniej dwie mniejszości narodowe, które w okresie międzywojennym nie utworzyły własnego państwa.	P	F
W 1921 r. mniejszość narodowa należąca do jednego z byłych państw zaborczych liczyła 4%.	P	F

**Oś czasu do zadania 13.**



**Zadanie 13. (0–1)**

Dokończ zdanie. Wybierz właściwą odpowiedź spośród podanych.

Tzw. Mała konstytucja została uchwalona w okresie oznaczonym na osi czasu numerem

- A. 1.                      B. 2.                      C. 3.                      D. 4.

**Zadanie 14. (0–2)**

Opisom w tabeli przyporządkuj odpowiednią postać spośród oznaczonych literami A–C. Wybierz właściwą literę.

14.1.	(1860–1941), pianista, [...] kompozytor, polityk, działacz społeczny i patriotyczny. [...] W czasie I wojny światowej działał aktywnie na rzecz niepodległości Polski [...]. W 1919–1920 prezydent Rady Ministrów [...] i minister spraw zagranicznych; podpisał w imieniu Polski wersalski traktat pokojowy.	A	B	C
14.2.	(1865–1922), pierwszy prezydent Rzeczypospolitej Polskiej, inżynier. W 1908–1920 profesor politechniki w Zurychu [...]. Po powrocie do kraju w 1920–1921 minister robót publicznych, w 1922 – spraw zagranicznych. 9 XII wybrany na prezydenta przez Zgromadzenie Narodowe [...]; zastrzelony w Warszawie 16 grudnia przez prawicowego fanatyka.	A	B	C

Halina Adameczyk-Szczecińska, Alicja Mańkowska, Krystyna Zalewska, *Słownik szkolny. Postacie historyczne*, Wydawnictwa Szkolne i Pedagogiczne, Warszawa 1997, s. 224 i 237.

A – Gabriel Narutowicz                      B – Ignacy Jan Paderewski                      C – Wojciech Korfanty

PRZENIEŚ ROZWIĄZANIA NA KARTĘ ODPOWIEDZI!

## Tabela do zadania 15.

Kluby i koła poselskie Sejmu Ustawodawczego  
(stan w XI 1922 r.)

Partia	Liczba członków
Związek Ludowo-Narodowy	91
Polskie Stronnictwo Ludowe „Piast”	81
Narodowe Zjednoczenie Ludowe	45
Związek Polskich Posłów Socjalistycznych	33
Narodowy Chrześcijański Klub Robotniczy	25
Polskie Stronnictwo Ludowe „Wyzwolenie”	24
Narodowo-Chrześcijańskie Stronnictwo Ludowe	23
Narodowa Partia Robotnicza	21
Klub Pracy Konstytucyjnej	15
Zjednoczenie Mieszczańskie	11
Wolny Związek Posłów Narodowości Żydowskiej	10
Polskie Stronnictwo Ludowe „Lewica”	8
Polskie Stronnictwo Katolicko-Ludowe	7
Niemieckie Stronnictwo Ludowe	7
Narodowa Partia Pracy	6
Klub Rad Ludowych	5
Klub Lewicy Ludowej	4
Stronnictwo Posłów Komunistycznych	2
Stronnictwo Radykalno-Chłopskie	1
Bezpartyjni	12

*Historia Polski w liczbach*, Główny Urząd Statystyczny,  
Warszawa 2003, t. 1, s. 271.

**Zadanie 15. (0–1)**

Oceń, czy poniższe zdania dotyczące tabeli są prawdziwe. Wybierz **P**, jeśli zdanie jest prawdziwe, albo **F** – jeśli zdanie jest fałszywe.

Z danych zawartych w tabeli wynika, że ruch ludowy w Polsce był we wspomnianym okresie poważnie rozbity.	<b>P</b>	<b>F</b>
Jednym z głównych problemów politycznych Polski w okresie formowania się ustroju politycznego państwa był brak możliwości stworzenia stabilnego rządu.	<b>P</b>	<b>F</b>

**Tekst do zadań od 16. do 18.**

Konstytucja marcowa  
(fragm.)

## Artykuł 2.

Władza zwierzchnia w Rzeczypospolitej Polskiej należy do Narodu. Organami Narodu w zakresie ustawodawstwa są Sejm i Senat, w zakresie władzy wykonawczej – Prezydent Rzeczypospolitej łącznie z odpowiedzialnymi ministrami, w zakresie wymiaru sprawiedliwości – niezawisłe Sądy. [...]

## Artykuł 39.

Prezydenta Rzeczypospolitej wybierają na lat siedem bezwzględną większością głosów Sejm i Senat, połączone w Zgromadzenie Narodowe. [...]

## Artykuł 43.

Prezydent Rzeczypospolitej sprawuje władzę wykonawczą przez odpowiedzialnych przed Sejmem ministrów i podległych im urzędników.

## Artykuł 44.

[...] Każdy akt rządowy Prezydenta Rzeczypospolitej wymaga dla swej ważności podpisu Prezesa Rady Ministrów i właściwego ministra, którzy przez podpisanie aktu biorą zań odpowiedzialność.

## Artykuł 45.

Prezydent Rzeczypospolitej mianuje i odwołuje Prezesa Rady Ministrów, na jego wniosek mianuje i odwołuje ministrów [...].

## Artykuł 51.

Za czynności urzędowe Prezydent Rzeczypospolitej nie jest odpowiedzialny ani parlamentarnie, ani cywilnie.

Melania Sobańska-Bondaruk, Stanisław Bogusław Lenard, *Wiek XX w źródłach*,  
Wydawnictwo Naukowe PWN, Warszawa 1998, s. 145–146.

**Zadanie 16. (0–1)****Dokończ zdanie. Wybierz właściwą odpowiedź spośród podanych.**

Zgodnie z zacytowanym dokumentem w polskim ustroju politycznym w praktyce

- A. istniała równowaga między władzami wykonawczą, ustawodawczą i sądowniczą.
- B. przewagę miała władza sądownicza.
- C. przewagę miała władza wykonawcza.
- D. przewagę miała władza ustawodawcza.


**Zadanie 17. (0–1)****Dokończ zdanie. Wybierz właściwą odpowiedź spośród podanych.**

Kwestie odpowiedzialności władzy wykonawczej za podejmowane decyzje polityczne regulowały artykuły

- A. 39. i 43.
- B. 39. i 44.
- C. 44. i 51.
- D. 45. i 51.

**Zadanie 18. (0–1)****Oceń, czy poniższe zdania dotyczące tekstu są prawdziwe. Wybierz P, jeśli zdanie jest prawdziwe, albo F – jeśli zdanie jest fałszywe.**

W myśl Konstytucji marcowej wszystkie instytucje władzy wykonawczej były powoływane przez władzę ustawodawczą.	<b>P</b>	<b>F</b>
Prezydent Rzeczypospolitej był wybierany w wyborach powszechnych.	<b>P</b>	<b>F</b>

**Ilustracja do zadania 19.**

Domena publiczna

Stanisław Wojciechowski

**PRZENIEŚ ROZWIĄZANIA NA KARTĘ ODPOWIEDZI!**

**Zadanie 19. (0-1)**

**Dokończ zdanie. Wybierz właściwą odpowiedź spośród podanych.**

Na ilustracji ukazano

- A. członka polskiej reprezentacji politycznej na konferencji w Wersalu.
- B. przywódcę powstańców śląskich.
- C. premiera II Rzeczypospolitej.
- D. prezydenta II Rzeczypospolitej.

**Zadanie 20. (0-2)**

**Spośród podanych wydarzeń oznaczonych literami A-D wybierz wydarzenie chronologicznie pierwsze i wydarzenie chronologicznie ostatnie. Zaznacz litery, którymi oznaczono wybrane wydarzenia.**

<b>20.1.</b>	Wydarzenie chronologicznie pierwsze	<b>A</b>	<b>B</b>	<b>C</b>	<b>D</b>
<b>20.2.</b>	Wydarzenie chronologicznie ostatnie	<b>A</b>	<b>B</b>	<b>C</b>	<b>D</b>

- A – uchwalenie Konstytucji marcowej
- B – Bitwa Warszawska
- C – wybór pierwszego prezydenta Rzeczypospolitej
- D – uchwalenie tzw. Małej konstytucji